





**Межрегиональные предметные олимпиады КФУ**  
**профиль «Политология»**  
**заключительный этап**  
**2021-2022 учебный год**  
**11 класс**

**Задание 1.** Укажите государства, которым принадлежат представленные ниже флаги, определите их форму правление (полное название) и форму территориального устройства, а также любое международное объединение, членом которого является данное государство (20 баллов).

А		Б	
В		Г	

Ответ:

А Канада, парламентская республика, федерация

Б. Япония, парламентская монархия, унитарное государство

В. США, президентская республика, федерация

Г. Испания, парламентская монархия, унитарное государство

В ответе могут быть представлены любые международные организации, членами которых являются данные государства.

**Задание 2.** Решите кроссворд (10 баллов).

- объединение государств, политических партий, профсоюзов и других организаций для достижения общих целей;
- выборный, высший законодательный орган власти в государстве;
- тактика прямого заигрывания с широкими массами народа, раздачи необоснованных обещаний с целью приобрести популярность в предвыборной борьбе;
- временное, постоянное или сезонное перемещение людей в пределах одной страны или за ее пределы, связанное со сменой места жительства;
- наличие у граждан сравнительно стойкого ощущения отчужденности от господствующей политической системы или недовольства ею, перерастающего в её отрицание;
- государство, имеющее обширные колониальные владения;
- общественно-политическое течение, исходящее из принципа полной свободы личности, других гражданских и политических прав индивида, а также ограничение сферы деятельности государства;
- способ наказания государств, нарушивших международные обязательства, нормы международного права;
- политика, ориентированная на решение международных проблем военными средствами;
- процедура, применяемая для привлечения к ответственности или отстранения от должности представителя высшей государственной власти (по горизонтали).

Ответ:

	2. П							
1.К	А							9.М
О	Р					7.Л		И
А	Л	3.П		5.О		И	8.С	Л
Л	А	О	4.М	Т	6.И	Б	А	И
10.И	М	П	И	Ч	М	Е	Н	Т
Ц	Е	У	Г	У	П	Р	К	А

И	Н	Л	Р	Ж	Е	А	Ц	Р
Я	Т	И	А	Д	Р	Л	И	И
		З	Ц	Е	И	И	Я	З
		М	И	Н	Я	З		М
			Я	И		М		
				Я				

**Задание 3.** В 1976 г. Дж. Сартори в работе «Партии и партийные системы» предложил классификацию партийных систем, основанную на идеологической дистанции между партиями и их количестве. Внесите недостающие элементы в представленную ниже таблицу (14 баллов).

Ответ:

Описание типа партийной системы	Название партийной системы	Пример государства с данным типом партийной системы*
партийные системы с единственной партией, стоящей у власти; партия монополизует политическую деятельность;	Однопартийная система	СССР, Албания, Монголия, Куба
партийные системы, где формально функционирует несколько партий, но реальная политическая власть принадлежит одной, выступающей по отношению к другим партиям на правах «старшего брата» и имеющей бесконтрольную монополию на власть	Гегемонистская система	Мексика (1940-1994)
партийные системы, где действует несколько политических партий, но, несмотря на юридически закрепленные возможности, у власти в течение длительного периода находится одна партия;	Система с доминирующей партией	Индия, Япония
партийные системы, где две ведущие политические партии поочередно сменяют друг друга в роли правящей партии;	Двухпартийная система	Великобритания
партийные системы, где все функционирующие в обществе партии ориентированы на участие в правительстве, на возможность участия в коалиционном кабинете; идеологические различия между партиями невелики	Система ограниченного плюрализма	ФРГ
Система, характеризующаяся наличием антисистемных партий, существование двухсторонней оппозиции, поляризация партийной системы	Система крайнего плюрализма	Италия
партийная система, при которой проблема точного подсчета числа партий уже не стоит, так как достигнут порог, за которым количество партий уже не имеет решающего значения, так как ни одна из партий в подобной системе не способна оказать заметного влияния ни на другие партии, ни на политическую жизнь в стране.	Атомизированная	Польша (1991)

В ответе могут быть представлены иные кейсы.

**Задание 4.** Укажите неверные тезисы, перечислив их номера. Внесите в них правки, заменив идеологии таким образом, чтобы эти тезисы стали корректными (10 баллов).

- 1) Всякая система либеральных воззрений начинается с философии индивидуализма и естественных прав человека.
- 2) С социалистической точки зрения, свобода – это состояние, когда права отдельного человека на жизнь, собственность и безопасность не нарушаются.
- 3) Доктрина христианской демократии предлагает так называемый «третий путь», отличный от капитализма и коммунизма.
- 4) Представление о государстве как «ночном страже» характерно для коммунистической идеологии.
- 5) Консерваторы отвергают свойственный либералам и социалистам идеи мелиоризма.
- 6) Революция рассматривается коммунистами как единственный приемлемый способ преобразования общества
- 7) Решительное неприятие социального равенства, антиэгалитаризм свойственен консерваторам разных толков и течений
- 8) Доминирование идеи социального равенства над идеей индивидуальной свободы характерная черта либеральной идеологии
- 9) Социал-демократические партии часто упоминают в своих манифестах антипатернализм как ключевой принцип взаимоотношений граждан и государства.
- 10) Социал-демократы признали значимость частной собственности и отказались от революции, а среди приоритетных проблем выделяют борьбу за социальную справедливость, равенство и преодоление разрыва между бедными и богатыми.

Ответ:

- 1) Правда
- 2) Неправда. (Исправление: Либерализм)
- 3) Неправда (Исправление: социал-демократия)
- 4) Неправда (Исправление: Либерализм)
- 5) Правда
- 6) Правда
- 7) Правда
- 8) Неправда (Исправление: социализм \ Социал-демократия)
- 9) Неправда (Исправление: либерализм)
- 10) Правда

**Задание 5.** Вам представлен ряд имен. В каждом ряду есть одно, которое является лишним. Вычеркните его и объясните свой выбор (12 баллов).

- А) Гаэтано Моска, Вильфредо Парето, Роберт Михельс, Роберт Даль
- Б) С. Хантингтон, А. Пшеворский, М. Вебер, Д. Росту
- В) Дж. Локк, Э. Берк, А. Смит, Дж. С. Милль
- Г) Г. Алмонд, С. Верба, Р. Инглхарт, Э. Бернштейн

Ответ:

- А) Лишний Р. Даль, тогда как Вильфредо Парето (1848-1923), Гаэтано Моска (1858-1941) и Роберт Михельс (1876-1936) были основателями макиавеллистской школе элитизма, которая повлияла на последующую теорию элиты в западной традиции.
- Б) Лишний М. Вебер, остальные исследователи сконцентрировали внимание на проблеме демократических переходов. С. Хантингтон (Третья волна: демократизация в конце двадцатого века) создал теорию демократических волн, А. Пшеворский (Демократия и рынок. Политические и экономические реформы в Восточной Европе и Латинской Америке), Д. Росту (Переходы к демократии: попытка динамической модели) предложили модели перехода к демократии.
- В) Все, кроме Э. Берка, являются теоретиками либерализма. Э. Берк – теоретик консерватизма.
- Г) Э. Бернштейн – теоретик социал-демократии. Остальные имена принадлежат политологам, исследовавшим проблему политической культуры.

**Задание 6.** Особенностью американской избирательной системы являются непрямые выборы президента США, победитель которых определяется голосами выборщиков. Сложность процедуры и порождаемые ею проблемы неоднократно становились причиной критики данной системы.

Перед вами результаты президентских выборов с 2000 по 2020 гг. Укажите победителей в каждом электоральном цикле. Результаты двух выборов стали возможны лишь благодаря особенностям американской избирательной системы. О каких из указанных в таблице выборах идет речь? Объясните почему такие результаты стали возможны (16 баллов).

	Кандидаты от Демократической партии	Кандидаты от Республиканской партии
1. Президентские выборы 2000 г.	Альберт Гор Число голосов выборщиков 266 Всего голосов избирателей 51 003 926 (48,4%)	Джордж Буш-младший Число голосов выборщиков 271 Всего голосов избирателей 50 460 110 (47,9%)
2. Президентские выборы 2004 г.	Джон Керри Число голосов выборщиков 251 Всего голосов избирателей 59 028 444 (48,27 %)	Джордж Буш-младший Число голосов выборщиков 286 Всего голосов избирателей 62 040 610 (50,73 %)
3. Президентские выборы 2008 г.	Барак Обама Число голосов выборщиков 365 Всего голосов избирателей 69 498 516 (52,93 %)	Джон Маккейн Число голосов выборщиков 173 Всего голосов избирателей 59 948 323 (45,65 %)
4. Президентские выборы 2012 г.	Барак Обама Число голосов выборщиков 332 Всего голосов избирателей 65 915 796 (51,1%)	Митт Ромни Число голосов выборщиков 206 Всего голосов избирателей 60 933 500 (47,2%)
5. Президентские выборы 2016 г.	Хилари Клинтон Число голосов выборщиков 227 Всего голосов избирателей 65 853 514 (48,2 %)	Дональд Трамп Число голосов выборщиков 304 Всего голосов избирателей 62 984 828 (46,1 %)
6. Президентские выборы 2020 г.	Джозеф Байден Число голосов выборщиков 306 Всего голосов избирателей 81 268 867 (51,3 %)	Дональд Трамп Число голосов выборщиков 232 Всего голосов избирателей 74 216 747 (46,9 %)

Ответ:

Президентские выборы 2000 г. Джордж Буш-младший

Президентские выборы 2004 г. Джордж Буш-младший

Президентские выборы 2008 г. Барак Обама

Президентские выборы 2012 г. Барак Обама

Президентские выборы 2016 г. Дональд Трамп

Президентские выборы 2020 г. Джозеф Байден

Победа Дж. Буша младшего в 2000г., и победа Д. Трампа в 2016 г. стали возможны в связи с непрямой (двухступенчатой) системой выборов президента США, где президент избирается коллегией выборщиков. В 48 штатах из 50 выборщики назначаются по системе «победитель получает все», независимо от того, с каким результатом он победил. То есть кандидату, победившему в Калифорнии, достаются все 55 выборщиков, даже если он набрал на выборах 51 процент, а его оппонент — 49. Возможна и даже нередка ситуация, когда кандидат получает большинство голосов избирателей, но меньшинство голосов выборщиков.

**Задание 7.** Установите соответствие интеграционных объединений и стран, входящих в их состав (18 баллов). Ответ запишите в формате «1А, 2Б, 3В, ...»

1	Экономическое сообщество стран Западной Африки (ЭКОВАС)	А	Вануату, Тувалу, Папуа-Новая Гвинея, Фиджи, Самоа
2	Евразийский экономический союз (ЕАЭС)	Б	Индонезия, Камбоджа, Малайзия, Мьянма, Филиппины

3	Сообщество развития Юга Африки (САДК)	В	Армения, Россия, Казахстан, Киргизия, Белоруссия
4	Форум Тихоокеанских островов	Г	Аргентина, Бразилия, Уругвай, Парагвай
5	Общий рынок стран Южного Конуса (Меркосур)	Д	Бенин, Буркина-Фасо, Кабо-Верде, Мали, Нигер
6	Ассоциация стран Юго-Восточной Азии (АСЕАН)	Е	Ангола, Ботсвана, Мадагаскар, Намибия, Замбия, Зимбабве

Ответ: 1Д, 2В, 3Е, 4А, 5Г, 6Б